

# Il laboratorio di PICCOLO GENIO

• LEGGI E COMPLETA.



- QUANTI MASCHI GIOCANO AL GIROTONDO?
- QUANTE FEMMINE GIOCANO AL GIROTONDO?
- QUANTI BAMBINI GIOCANO IN TUTTO?

.....

.....

.....

..... + ..... = .....



- QUANTE CONCHIGLIE C'ERANO SULLA SPIAGGIA?
- QUANTE CONCHIGLIE HA PORTATO VIA IL MARE?
- QUANTE CONCHIGLIE SONO RIMASTE SULLA SPIAGGIA?


.....

.....

.....

..... - ..... = .....

• RISOLVI LE SEGUENTI ADDIZIONI E SOTTRAZIONI. AIUTATI CON LA LINEA DEI NUMERI.



$5 + 3 = \dots\dots$

$5 + 4 = \dots\dots$

$8 - 2 = \dots\dots$

$9 - 3 = \dots\dots$

$6 + 1 = \dots\dots$

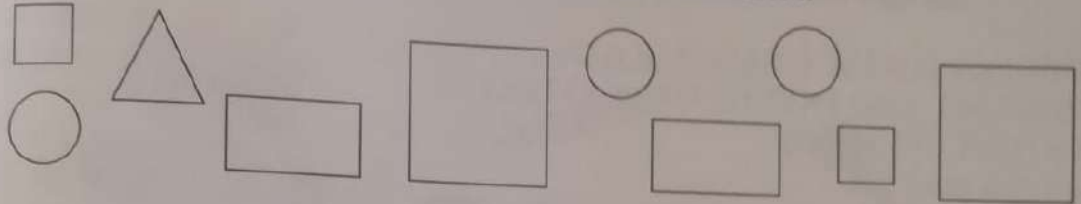
$3 + 3 = \dots\dots$

$7 - 5 = \dots\dots$

$8 - 6 = \dots\dots$

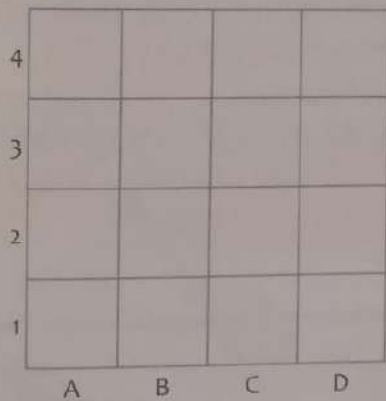
## Il laboratorio di PICCOLO GENIO

- COLLEGA OGNI FORMA ALLA SCATOLA GIUSTA.



- DISEGNA:

un 🌻 in B, 4      una 🐞 in D, 3  
 una 🦋 in C, 1      una 🍃 in A, 2



- DISEGNA UNA SCIARPA LUNGA E UNA CORTA.



- NUMERA I PALAZZI DAL PIÙ ALTO AL PIÙ BASSO.

